

## సాంఘికశాస్త్రము, (పేపర్-2)

మాదిరి ప్రశ్నపత్రము -1

సంగ్రహణాత్మక పరీక్ష -III (పదవతరగతి, 2016-17)

సమయము: 2-45 ని:

కనీస మార్కులు:40

సూచనలు:

1. ప్రశ్నపత్రాన్ని చదవడానికి 15 ని: కేటాయిస్తారు
2. భాగం-A లోని ప్రశ్నలకు జవాబులు ప్రత్యేక పత్రములో రాయవలెను
3. మ్యాపును మరియు బిట్ పేపరును జవాబు పత్రానికి జతచేసి తనికీఅధికారికి (Invisilatar) కు అందజేయవలెను.
4. పరీక్షప్రారంబంలోనే పరీక్ష పత్రముతోపాటు, బిట్ ఫెపరును కూడా విద్యార్థులకు అందించాలి

సమయము: 2.30 గం;

భాగం - A

మార్కులు: 30

సెక్షన్-1

సూచనలు:

- i. క్రింది నాలుగు ప్రశ్నలకు 1, లేదా 2 వాక్యాలలో సమాధానాలు రాయండి
- ii. ప్రతిప్రశ్నకు ఒక మార్కు కేటాయించడమైనది  $4X | =4$

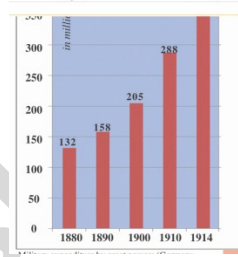
1. నర్మదాబచావో ఆందోళనకు సంబంధించి రెండు ముఖ్య ఉద్దేశ్యాలను రాయండి

2. లోక్ అదాలత్ కు సంబంధించి రెండు ప్రయోజనాలు వ్రాయండి.
3. ఏ అంశంలో కైలాస్ సత్యాగ్రహి గారికి నోబెల్ బహుమతి ఇచ్చారు.
4. భారతదేశాన్ని ఆనుకొని ఉన్న తీరప్రాంత దేశాల పేర్లను రాయండి.

## సెక్షన్-II

సూచనలు:

- i. క్రింది ఐదు ప్రశ్నలకు జవాబులు వ్రాయండి
- ii. ప్రతి ప్రశ్నకు మార్కులు -2 2X5=10
5. రెండవ ప్రపంచ యుద్ధం తరువాత ఏర్పడిన రెండు దేశాల కూటముల రాజకీయ భావజాలం ఏమిటి----
6. దిగువ ఇచ్చిన గ్రాఫ్ ను చదివి దిగువ ప్రశ్నలకు సమాధానములు రాయుము.  
(1880 - 1914 మధ్యకాలంలో అగ్రదేశాల సైనిక ఖర్చును తెలిపే బార్ గ్రాఫ్ ను పరిశీలించండి)



ప్రశ్నలు:

1. గతముపై సంవత్సరాలలో అగ్రదేశాల సైనిక ఖర్చులో వచ్చిన మార్పు ఏమిటి? దీనికి కారణం ఏమిటని మీరు భావిస్తున్నారు?
7. యుద్ధం ఫలితాలను గూర్చి నీవు ప్రజలకు తెలపాలనుకుంటున్నావు. అందుకుగాను ఏవేని నాలుగు వాక్యాలతో ఒక పోస్టర్ ను తయారుచేయుము.
8. "స్వేచ్ఛ" అనేది రాజ్యాంగం కల్పించిన ఒకవరం. రాజ్యాంగంలో పొందుపరచిన అలాంటి ఆదర్శాలను వ్రాయండి.
9. భారతదేశ సమాఖ్య లక్షణాలను గూర్చి వ్రాయండి.

## సెక్షన్ - III

సూచనలు:

- i. క్రింది ఏవేని నాలుగు ప్రశ్నలకు జవాబులు వ్రాయుము
- ii. ప్రతి ప్రశ్నకు ప్రత్యాన్వాయము కలదు. 5
- iii. ప్రతి ప్రశ్నకు నాలుగు మార్కులు.

10(A) క్రింది పేరాను చదివి దిగువ ప్రశ్నకు జవాబు వ్రాయండి

యుద్ధం ముగియగానే సంకీర్ణ దేశాలైన బ్రిటన్, ఫ్రాన్స్, అమెరికా, రష్యా మరియు చైనా ఐక్యరాజ్య సమితి ఆవిర్భావానికి కావాలసిన సూత్రాల చార్టర్ న్ తయారు చేశారు. ఆచార్ట్ ప్రకారం కేవలం ప్రపంచ శాంతి, యుద్ధనివారణ మాత్రమే దృష్టి పెట్టక మానవహక్కులకు భరోసాకల్పించడం, ప్రజాస్వామ్య పరిక్షణ, ప్రపంచంలో పేదరిక నిర్మూలన మరియు ఆకలి తీర్చడం లాంటి వాటిని పొందుపరచారు.

ప్రశ్న: ఐక్యరాజ్యసమితి ఆవిర్భావానికి దారితీసిన కారణాలను వివరించండి.

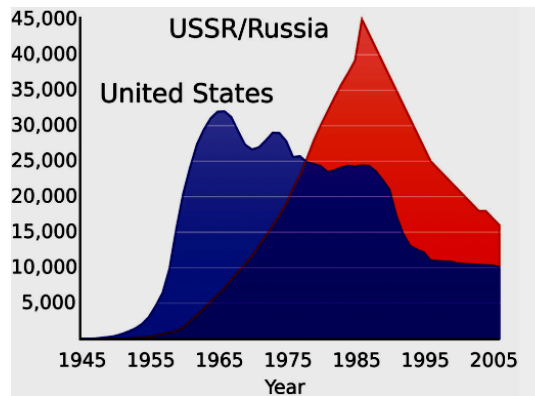
(లేద)

(బి) క్రింది పేరాను చదివి దిగువ ప్రశ్నకు సమాధానమును వ్రాయండి.

16 వ లోక్ సభ సార్వత్రిక ఎన్నికలలో భారతీయ జనతాపార్టీ 282 స్థానాలు, భారత జాతీయ కాంగ్రెస్ 44 స్థానాలు, సివసేన 18 స్థానాలు, తెలుగుదేశం పార్టీ 16 స్థానాలు సాధించాయి.

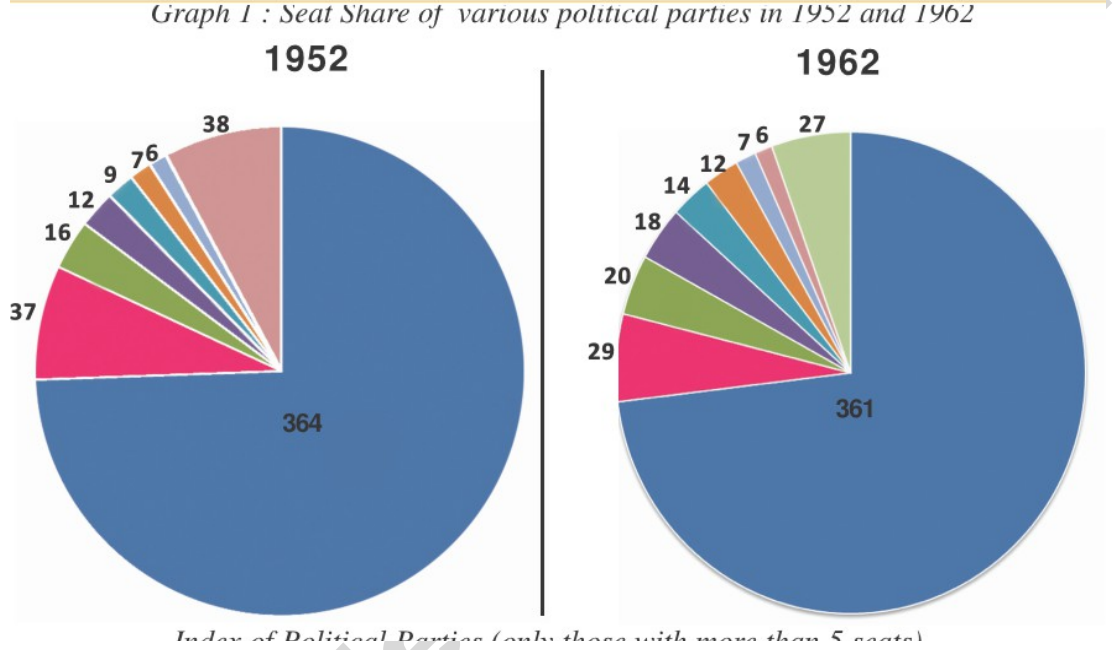
ప్రశ్న: ఏ పార్టీకి ప్రభుత్వ ఏర్పాటుకు అవకాశం కలదు. ఎందుకు?

11(A) క్రింది గ్రాఫ్ ను చదివి 8 వాక్యాలకు తక్కువలేకుండా మీస్వంత మాటల్లో రాయండి.



(లేద)

(బి) క్రింది గ్రాఫ్ ను చదివి అందులోని సమాచారం అధారంగా ఒక టేబిల్ ను తయారు చేయండి.



12(A) ప్రస్తుతము ప్రపంచము అణ్వాయుద పోటీలో ఉంది. ప్రస్తుత ఆధునిక ప్రపంచంలో ఐక్యరాజ్య సమితి పోషిస్తున్న పాత్ర సరిపోతుందని అనుకొంటున్నావా?

(లేద)

(బి) భాషాప్రయుక్త రాష్ట్రాల ఆవిర్భావం జాతీయ భాషా ప్రాధాన్యతపై ప్రభావం చూపిందని మీరు భావిస్తున్నారా? మీ సమాధానాన్ని సమర్థించండి.

13(A) ప్రపంచ పటంలో క్రిందివాటిని గుర్తించండి.

1. పోర్చుగల్
2. స్వీడన్
3. కాస్పియన్ సముద్రము
4. ఫిలిఫైన్స్

(లేద)

(బి) మీకు ఇచ్చిన ప్రపంచపటంలో క్రిందివాటిని గుర్తించండి.

- i. అమెరికాకు ఉత్తరాన ఉన్న దేశం పేరు
- ii. ఇంగ్లాండుకు పశ్చిమాన కల సముద్రము
- iii. ఆఫ్రికాను ఐరూపాను విభస్తున్న సముద్రము
- iv. ప్రపంచంలో అత్యధిక వైశాల్యం కలిగిన దేశం.

---

పార్టు - బి

సమయము: 30 ని

మార్కులు: 20X1/2=10

---

సూచనలు:

- i. ప్రతిప్రశ్నకు ఎదురుగా ఇచ్చిన బ్రాకెట్లలో క్రింది బహుళైచ్ఛిక ప్రశ్నలనుండి సరియైన సమాధానమును గుర్తించండి
  - ii. ప్రతి ప్రశ్నకు ½ మార్కులు
  - iii. కొట్టివేత జవాబులకు మరియు దిద్దుబాటు జవాబులకు మార్కులు ఇవ్వబడవు.
14. క్రిందివాటిలో ఐక్యరాజ్య సమితి లక్ష్యం కానిది ( )
- (A) శాంతి నెలకొల్పడం (B) మానహక్కుల కాపాడడం
- (C) రెండు అగ్రరాజ్యాలకు సహకరించడం (C) సామాజిక అభివృద్ధికి పాటుబడడం
15. క్రిందివాటిని సరియైన క్రమంలో అమర్చండి ( )
- iiidkdkdkd
- i. భారత రాజ్యాంగ సభ ఏర్పాటు
  - ii. క్వీట ఇండియా ఉద్యమం
  - iii. ముస్లీంలీగ్ ఏర్పాటు
  - iv. భారతదేశ స్వాతంత్ర్యం
- (A) i, ii, iii, iv (B) iii, ii, i, iv (C) iii, i, iv, ii (D) iv, iii, i, ii

16. క్రిందివాటిని జతపరుచుము ( )

- |                       |                        |
|-----------------------|------------------------|
| 1. సన్-ఎట్-సేన్ ( )   | a) పర్యావరణ వేత్త      |
| 2. హో-చి-మిన్ ( )     | b) ఆధునిక భారత నిర్మాత |
| 3. కెన్-సారో-వివా ( ) | c) లాంగ్ మార్చ్        |
| 4. మావో-జెడాంగ్ ( )   | d) వియత్నాం            |

- |                        |                        |
|------------------------|------------------------|
| (A) 1-a, 2-b, 3-c, 4-d | (B) 1-b, 2-d, 3-a, 4-c |
| (C) 1-d, 2-c, 3-a, 4-b | (D) 1-d, 2-a, 3-c, 4-b |

17. క్రిందివాటిలో సత్యమైనది ఏది ( )

1. భారత రాజ్యాంగము అందరికీ ఏక పౌరసత్వాన్ని ప్రసాదించింది
2. భారత సమాఖ్యలో ద్వంద రాజకీయ వ్యవస్థ ఉందికానీ, ద్వంద న్యాయవ్యవస్థలేదు
3. భారత రాజ్యాంగాన్ని సవరించడానికి వీలులేదు

- |                      |                          |
|----------------------|--------------------------|
| (A) 1 మాత్రమే సత్యము | (B) రెండు మాత్రమే సత్యము |
| (C) 1,2,3 సత్యము     | (D) 1,2 సత్యము           |

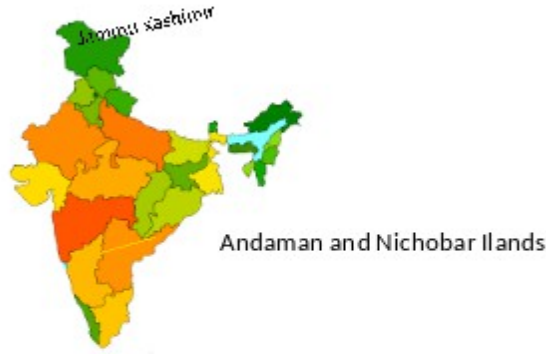
18. 42 వ రాజ్యాంగ సవరణ ముఖ్య ఉద్దేశ్యము ( )

- (A) ఎన్నికలవివాదాలలో న్యాయవ్యవస్థకు అవకాశంలేకుండా చూడడం
- (B) రాష్ట్రప్రభుత్వంలాగా కేంద్రప్రభుత్వాన్ని బలోపేతం చేయడం
- (C) న్యాయవ్యవస్థను పార్లమెంటుకు భాద్యతవహించేలాచేయడం
- (D) పైవన్ని

19. ఉచిత న్యాయాన్ని పొందడానికి ఎవరికి అవకాశం లేదు ( )

- (A) ఒక లక్షకంటే ఎక్కువ ఆదాయం కలవారికి  
(B) షెడ్యూల్డ్ కులాలు లేదా షెడ్యూల్డ్ తెగలవారికి  
(C) స్త్రీలు మరియు పిల్లలు  
(D) కార్మికులు

20. క్రింది మ్యాపును పరిశీలించి దిగువ ప్రశ్నకు జవాబు వ్రాయండి ( )



ప్రశ్నలు:

- i. జమ్మూ కాశ్మీర్ భారతదేశానికి ఉత్తరదిక్కునకలదు  
ii. అండమాన్ నికోబార్ దీవులు భారతదేశానికి ఉత్తరదిక్కున కలవు  
(A) i సత్యము (B) ii సత్యము (C) i, ii సత్యము (D) పైవేదీకాదు

21. భోపాల్ దుర్ఘటన జరిగిన సంవత్సరము ( )

- (A) 1980 (B) 1984 (C) 1974 (D) 1969

22. అంతర్యుద్ధము అనగా ( )  
(A) సాంప్రదాయ యుద్ధాలు (B) అణుయుద్ధాలు  
(C) ప్రచారంతో కూడిన యుద్ధక్రియలు(ప్రచ్ఛన్నయుద్ధం)  
(D) గగనతలయుద్ధము
23. ప్రణాళికా సంఘం స్థానంలో ఏర్పడిన కొత్త సంస్థ ( )  
(A) నాబార్డ్ (B) జన్ ధన్ యోజన్  
(C) నీతీ ఆయోగ్ (D) ముద్రా
24. 2013 వరకు జరిగిన రాజ్యాంగ సవరణలు ( )  
(A) 79 (B)89 (C) 99 (D) 109
25. వియత్నాం ఈ దేశానికి వలసరాజ్యంగా ఉండినది ( )  
(A) బ్రిటన్ (B) స్పెయిన్ (C) డచ్ (D) ఫ్రాన్స్
26. క్రిదివాటిలో రాజీవ్ గాంధీ కృషి అభినందనీయము ( )  
(1) పంజాబ్ లో లోంగోవాల్ తో ఒప్పందం చేసుకోవడం  
(2) AASU తో శాంతి ఒప్పందం చేసుకోవడం  
(3) టెలీకాం రంగంలో విప్లవాత్మక కృషి  
(A) 1, 2, 3 (B)1 (C) 1, 3 (D) ఏదీకాదు
27. పంచశీల ఒప్పందంపై సంతకం చేసిన దేశాలు ( )  
(A) భారత్ - చైనా (B) భారత్ - శ్రీలంక



- (C) చైనా - రష్యా (D) చైనా - మయన్మార్
28. పాలస్థీనా సమస్య క్రింది వారికి చెందినది ( )  
(A) యూదులు - ఈజిప్టులు (B) యూదులు - అరబ్బులు  
(C) యూదులు - సిరియన్లు (D) అరబ్బులు - ఆంగ్లేయులు
29. భారతదేశంలో టెలీకాం రంగాన్ని పరిచయం చేసినవారు ( )  
(A) ఇందిరాగాంధీ (B) మొరార్జీదేశాయ్  
(C) రాజీవ్ గాంధీ (D) చరణ్ సింగ్
30. అస్సాం తిరుగుబాటు వీరి ఆధ్వర్యంలో జరిగింది ( )  
(A) AGP (B) AASU (C) DMK (D) SAD
31. హరిత విప్లవం అనగా ( )  
(A) చెట్లను పెంచడం (B) ఆహారధాన్యాల ఉత్పత్తిని పెంచడం  
(C) ఆహారధాన్యాల ఉత్పత్తిని తగ్గించడం (D) అడవుల నిర్మూలన
32. సమాచార హక్కును తీసుకు వచ్చిన సంవత్సరము ( )  
(A) 2002 (B) 2004 (C) 2006 (D) 2005
33. ప్రపంచ శాంతికొరకు కరపత్రంలోనికి సరిపోయే అంశము ( )  
(A) మలేరియా నిర్మూలన (B) పేదరిక నిర్మూలన  
(C) చర్బలద్వార సమస్యలను శాంతియుతంగా పరిష్కరించుకోవడం  
(D) పిల్లలు మరియు మహిళలను అక్రమ నిర్మూలనపై నిషేధము విధించడం